

## HAYAT BİLGİSİ

- 1 "Plansız bir yaşantı, kişiyi ..... götürür." cümlesinde boş bırakılan yere aşağıdakilerden hangisi gelebilir?
- A) Başarısızlığa  
B) Hedefine  
C) Mutluluğa
- 2 Aşağıdakilerden hangisi evimizde bizim yapmamız gereken görevlerdendir?
- A) Okuldan gelince yemek yapmak  
B) Okuldan gelince okul elbisemizi dolaba asmak  
C) Okuldan gelince oturma odasını temizlemek
- 3 Aşağıdakilerden hangisi bir bebeğin yapabileceği davranışlardan değildir?
- A) Süt içmek  
B) Okuyup yazmak  
C) Emeklemek
- 4 Atatürk, kaç yılında doğmuştur?
- A) 1923 B) 1919 C) 1881
- 5 Her yıl 23 Nisan günü hangi bayramı kutlarız?
- A) Cumhuriyet Bayramını  
B) Ulusal Egemenlik ve Çocuk Bayramını  
C) Atatürk'ü Anma, Gençlik ve Spor Bayramını
- 6 "Bir kişinin kendisini tanıttıcı, kendisi ile ilgili önemli bilgilerin bulunduğu yazıya ..... denir." cümlesindeki boşluğa aşağıdakilerden hangisi gelmelidir?
- A) Mektup  
B) Tebrik kartı  
C) Öz geçmişi
- Öz geçmişinin ile ilgili yazınızda aşağıdakilerden hangisi bulunmaz?
- A) Doğum yeri ve tarihi  
B) Anne ve baba adı  
C) Duygular
- 8 Aşağıdaki mesleklerden hangisi eğitimle ilgili bir meslektir?
- A) Öğretmenlik  
B) Avukatlık  
C) Doktorluk

- 9 Aşağıdakilerden hangisi, madenin hâllerinden değildir?
- A) Katı hâli  
B) Sıvı hâli  
C) Toz hâli
- 10 Dünya'nın Güneş etrafında dönmesiyle aşağıdakilerden hangisi oluşur?
- A) Günler  
B) Haftalar  
C) Mevsimler
- 11 Sabah güneşini sağ tarafına alan Cihan'ın önü hangi yönü gösterir?
- A) Kuzeyi  
B) Güneyi  
C) Batıyı
- 12 "Solunum yapmamızı sağlar." Yukarıdaki görevi yerine getiren organımız aşağıdakilerden hangisidir?
- A) Kalp  
B) Akciğer  
C) Karaciğer
- 13 Aşağıdakilerden hangisi doğal afet değildir?
- A) Deprem  
B) Sel  
C) Kaza
- 14 Tuğba, savurgan bir kızdır. Bir gün mağaza vitrininde bir çanta gördü. Çantası da eskimişti. Çantayı satın almak için, kumbarasından para almak amacıyla eve gitti. Fakat kumbarasında para yoktu. Tuğba'nın düştüğü duruma düşmemek için, aşağıdakilerden hangisini yapmalıyız?
- A) Savurgan olmalıyız.  
B) Cimri almalıyız.  
C) Tasarruflu olmalıyız.
- 15 Aşağıdakilerden hangisi, tavukların yaşadığı yuvanın ismidir?
- A) Kümes  
B) İn  
C) Kulübe

## TÜRKÇE

1. 1. Ağlamasan iyi olur.  
2. Keşke ağlamasaydım.  
3. Ağlamayabilirsin.  
Yukarıdaki cümlelerin hangisinde pişmanlık vardır?
- A) 1 B) 3 C) 2
- 2 Minnoş, kedimin adıdır.  
1 2 3  
Yukarıdaki cümlede numaralandırılmış sözcüklerden hangisi özel isimdir?
- A) 1 B) 2 C) 3
- 3 Aşağıdakilerden hangisinde kesme işareti (') doğru kullanılmıştır?
- A) Baklava'cı  
B) İzmir'li  
C) İzmir'de
- 4 Aşağıdaki cümlelerin hangisinde işitme duyusuna yönelik bir anlatım yoktur?
- A) Zil, acı acı çaldı.  
B) Okulun zili çok büyüktür.  
C) Dışarıdan zil sesi geliyordu.
- 5 "Ben eve gidiyorum." cümlesinde, aşağıdaki soruların hangisinin yanıtı yoktur?
- A) Nereye gidiyorsun?  
B) Nasıl gidiyorsun?  
C) Kim gidiyor?
- 6 "Kahramanmaraş" sözcüğünde kaç hece vardır?
- A) 6 B) 5 C) 7
- 7 Aşağıdaki motorlu araçlardan hangisinin özel bir siren sesi vardır?
- A)   
B)   
C) 



## MATEMATİK

8 Mert, sınıfta bir konuşma yapacak. Sizce Mert nasıl konuşmalıdır?

- A) Bağıracak  
B) Hızlı  
C) Akıcı

9 "Bir sözcüğün doğru yazılışını öğrenmek için aşağıdakilerden hangisine bakarız?"



10 Öğretmeniniz, araştırmanız için bir konu verdi. Aşağıdakilerden hangisi, konunuz hakkında bilgi toplayabileceğiniz bir yerdir?

- A) Pastane  
B) Postane  
C) Kütüphane

11 "Özge hemen eve gitmeli. Yoksa annesi ..... eder." cümlesi hangi sözcükle tamamlanır?

- A) Sevinir B) Merak C) Kızar

12 Aşağıdaki altı çizili sözcüklerin hangisinin yazımında yanlışlık yapılmıştır?

- A) Ayşe teyzemler geldi.  
B) Silgiyi Sineme verdim.  
C) İstanbul'a gittim.

13 Aşağıdaki cümlelerin hangisinin sonuna soru işareti (?) konmaz?

- A) Yaptı mı yapar  
B) Çok mu okudun  
C) Sen mi geldin



Yukarıdaki çerçeve içinde sınıfta ilgili kaç sözcük vardır?

- A) 4 B) 5 C) 6

15 Aşağıdaki iletişim araçlarının hangisinden faydalanmak için elektriğe ihtiyaç yoktur?

- A) Mektup  
B) Bilgisayar  
C) Cep telefonu

1 "Aynı türden 10 tane varlığı gösteren sayıya ....., aynı türden 12 tane varlığı gösteren sayıya ..... denir."

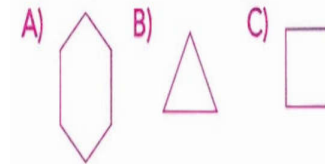
Yukarıdaki boşluklara sırasıyla hangileri yazılmalıdır?

- A) 1 düzine - 1 deste  
B) 1 deste - 1 düzine  
C) 1 düzine - 1 deste

2 53 sayısındaki 5 rakamının sayı değeri aşağıdakilerden hangisidir?

- A) 5 B) 50 C) 53

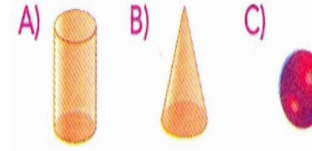
3 Aşağıdakilerden hangisinin köşe sayısı diğerlerinden azdır?



4 Aşağıdaki trafik işaretlerinin hangisi üçgensel bölge üzerine çizilmiştir?



5 Aşağıdakilerden hangisi koniye benzer?



6 200 santimetre kumaşın kaç santimetresini kesersek 1 metre kumaş kalır?

- A) 100 santimetre  
B) 200 santimetre  
C) 300 santimetre



Yukarıda gösterilen paraların toplamı kaç YTL eder?


- A) 15 B) 16 C) 17

8 2B sınıfına giden Elif, her gün 10 dakika jimnastik yapıyor. Elif 30 dakikalık jimnastiği kaç günde yapmıştır?

- A) 2 B) 3 C) 4

9 Aşağıdakilerden hangisini kilogramla tartarak alınız?

- A) Su  
B) Kumaş  
C) Elma



Yukarıdaki sürahi, 12 su bardağı su almaktadır. Sürahinin yarısı dolu olduğuna göre sürahide kaç su bardağı su bulunmaktadır?

- A) 5 B) 6 C) 7

11 10'un 5 katının 23 eksiği kaçtır?

- A) 27 B) 23 C) 25

12 Amcamın yaşı benim yaşımdan 3 katından 10 eksiktir. Benim yaşımdan 13 olduğuna göre amcamın yaşı kaçtır?

- A) 39 B) 29 C) 19

13 1)  $2 \times 3 = 6$

2)  $5 \times 6 = 35$

3)  $4 \times 6 = 24$

Yukarıdaki işlemlerden hangisi yanlıştır?

- A) 1 B) 2 C) 3

14  $60 - 55 - 50 - 45 - \square - 35 - 30 - \bigcirc$

Yukarıdaki örüntüde  $\square + \bigcirc$  aşağıdakilerden hangisidir?

- A) 50 B) 55 C) 65

15 İçinde 8 mendil olan kutuya kaç mendil koyarsak kutudaki mendiller bir düzine olur?

- A) 2 B) 3 C) 4

16 Aşağıdakilerden hangisinin hiç ayrıtı yoktur?

